




# LECTURE DE PLANS

**T.D.1**

## Feuille Réponse

1° Indiquez le nom des représentations graphiques se trouvant ci-dessous.  
Justifiez vos réponses.

Dessin a):



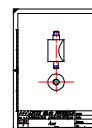
Nom:

Justification :

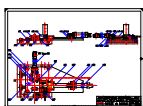
Dessin b):

Nom:

Justification :



Dessin c):



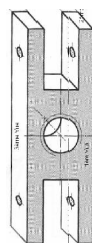
Nom:

Justification :

Dessin d):

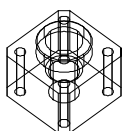
Nom:

Justification :



/8

Dessin e):



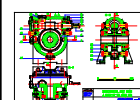
Nom:

Justification :

Dessin f):

Nom:

Justification :



Dessin g):



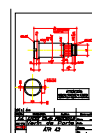
Nom:

Justification :

Dessin h):

Nom:

Justification :



/8

NOM:  
Prénom:  
Groupe:  
Classe:  
Date:

**FEUILLE REPONSE 1/2**

TD1 présentation Dessin 1

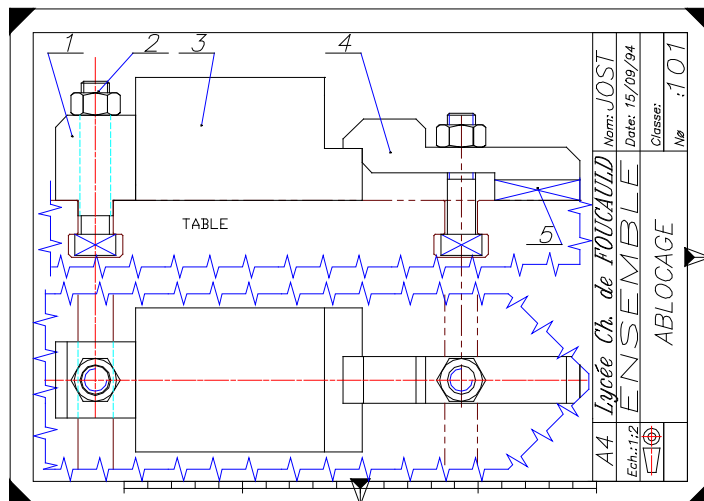


# LECTURE DE PLANS

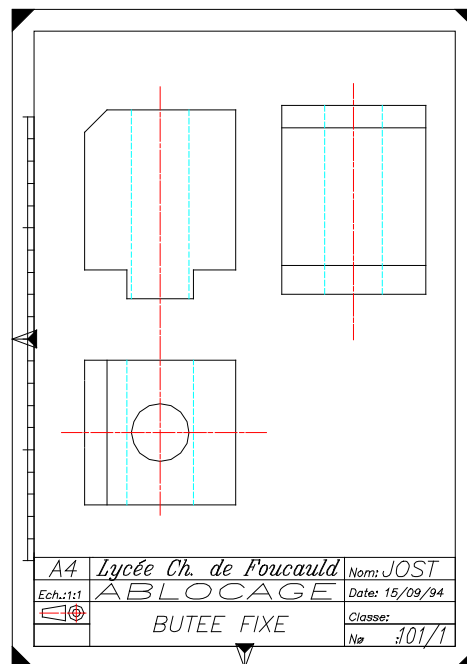
T.D.1

Pour la prochaine fois.....

2° Donnez le nom des deux représentation ci-dessous et ci-contre et justifier votre réponse.



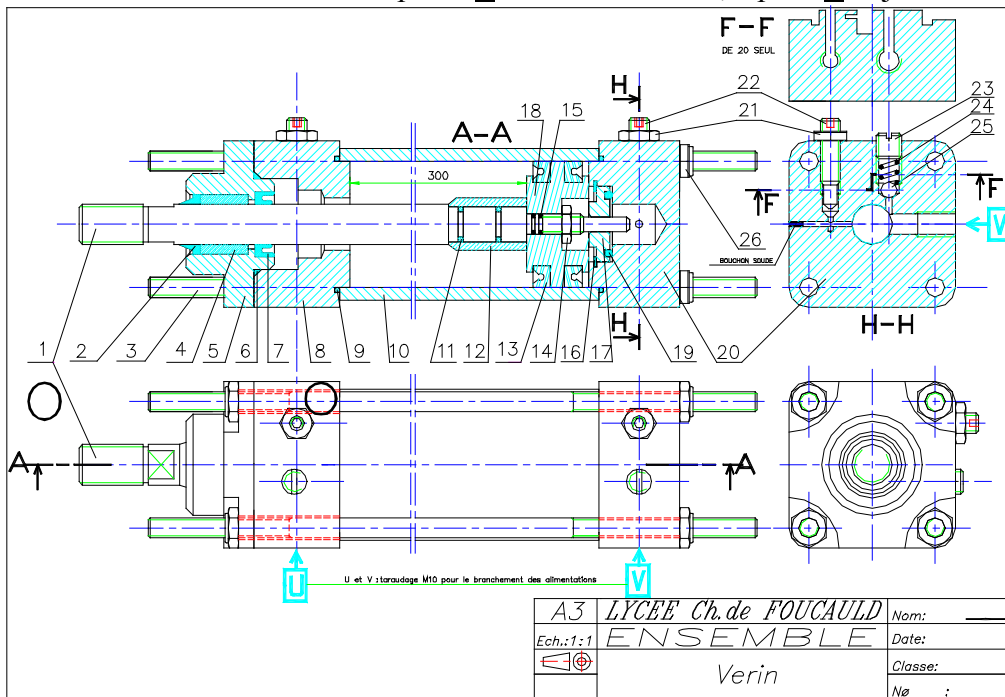
Justification :



Justification :

3° Sur le dessin ci-dessous coloriez en bleu la pièces 1 sur toutes les vues, la pièce 8 en jaune sur toutes les vues.

Nom de cette représentation:



NOM:  
Prénom:  
Groupe:  
Classe:  
Date:

**FEUILLE REPONSE 2/2**

TD1 présentation Dessin 2