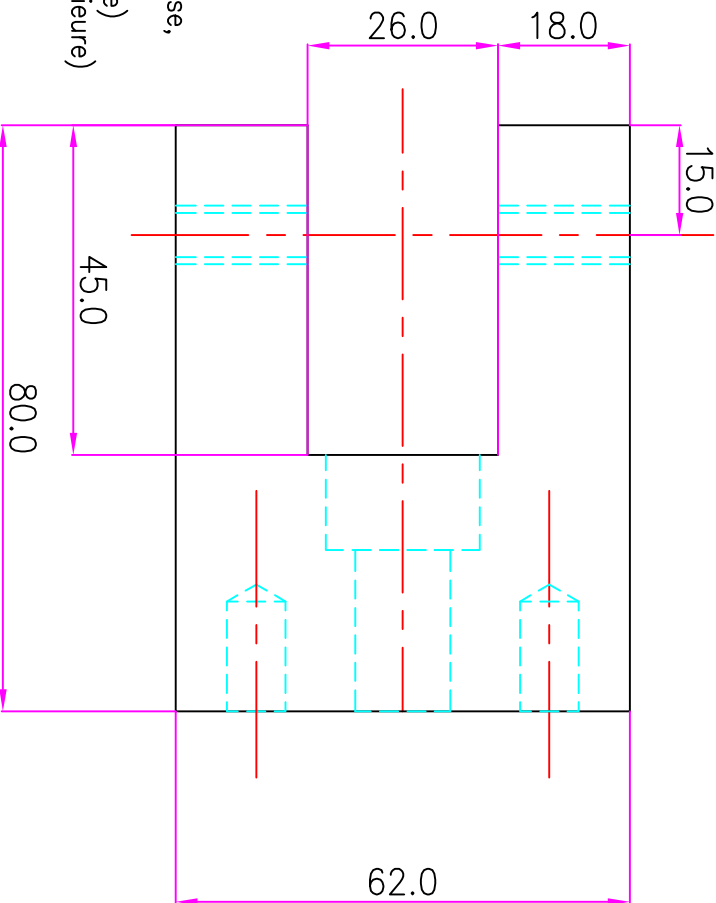
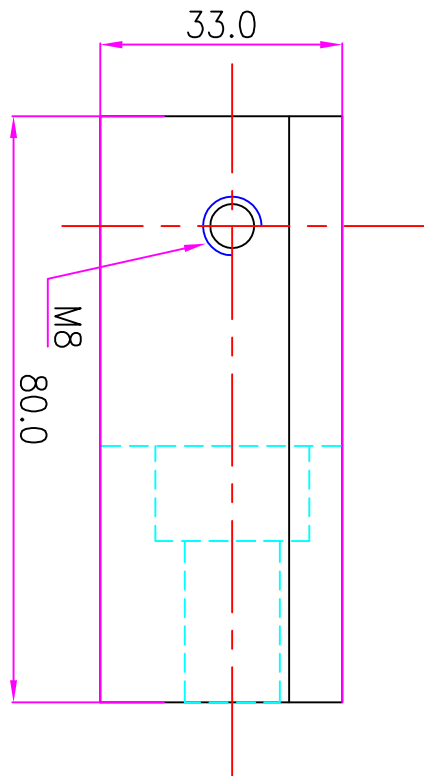


Remarque: Les vues de faces et de droite ne sont pas complètes.

Avec cette représentation, il n'est pas possible de coter entièrement le dessin.
Il vous est donc demandé de réaliser sur la feuille réponse, le dessin de cette pièce dans les vues suivantes :

- Vue de face coupe A-A (passant par l'axe de symétrie)
- Vue de dessus en 1/2 coupe B-B (sur la partie inférieure)
- Vue de gauche

- Cotez maintenant les nouvelles informations offertes par ce nouveau dessin.



A4H

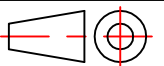
LYCEE Ch. de FOUCAULD

Nom: JOST

Ech.: 1:1

ENSEMBLE

Date:



ENTRAINEUR

Classe:

Nø : EXCOUP11